

کل نمبر: 10: واقعیت عامہ (دوم) ٹیسٹ نمبر 2 وقت: 10 منٹ

تیسرا مہینا، پہلا ہفتہ، دوسرا دن اسلیبس: باب نمبر 6: پانی کے قدرتی ذرائع


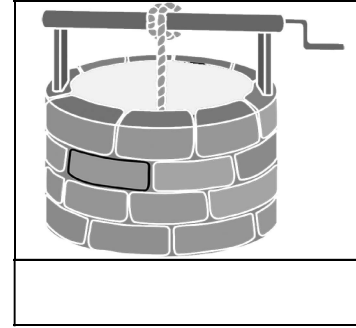
سوال نمبر 1: درج ذیل سوالات کے مختصر جواب لکھیں۔ (3x2=6)

(i) پانی کے قدرتی ذرائع کے نام لکھیں۔

(ii) بارش کا پانی کس میں شامل ہوتا ہے؟

(iii) ہم زیر زمین پانی کس طرح حاصل کرتے ہیں؟

سوال نمبر 2۔ (الف): نیچے دی گئی تصویروں کو پہچانیں اور ان کے نام لکھیں۔ (2)



(ب): دیئے گئے الفاظ کی مدد سے خالی جگہ پُر کریں۔ (0.5x4=2)

پانی	تین	ذخیرہ	بارش
------	-----	-------	------

(i) پانی کے _____ قدرتی ذرائع ہیں۔

(ii) پانی حاصل کرنے کا سب سے اہم اور بڑا ذریعہ _____ ہیں۔

(iii) زمین کی تہ میں پانی کا _____ موجود ہے۔

(iv) دریاؤں کے ذریعے سمندر میں مل جاتا ہے۔

کل نمبر: 10: واقعیت عامہ (دوم) ٹیسٹ نمبر 2 وقت: 10 منٹ

تیسرا مہینا، پہلا ہفتہ، دوسرا دن اسلیبس: باب نمبر 6: پانی کے قدرتی ذرائع


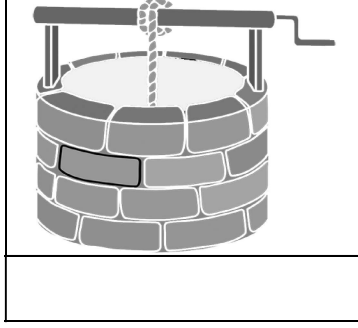
سوال نمبر 1: درج ذیل سوالات کے مختصر جواب لکھیں۔ (3x2=6)

(i) پانی کے قدرتی ذرائع کے نام لکھیں۔

(ii) بارش کا پانی کس میں شامل ہوتا ہے؟

(iii) ہم زیر زمین پانی کس طرح حاصل کرتے ہیں؟

سوال نمبر 2۔ (الف): نیچے دی گئی تصویروں کو پہچانیں اور ان کے نام لکھیں۔ (2)



(ب): دیئے گئے الفاظ کی مدد سے خالی جگہ پُر کریں۔ (0.5x4=2)

پانی	تین	ذخیرہ	بارش
------	-----	-------	------

(i) پانی کے _____ قدرتی ذرائع ہیں۔

(ii) پانی حاصل کرنے کا سب سے اہم اور بڑا ذریعہ _____ ہیں۔

(iii) زمین کی تہ میں پانی کا _____ موجود ہے۔

(iv) دریاؤں کے ذریعے سمندر میں مل جاتا ہے۔